

1. Kıpçaklar ile ilgili olarak aşağıdakilerden hangisi söylenemez?

- A) Bizans'la anlaşıp Peçenekleri ortadan kaldırmaya çalışmışlardır.
- B) Doğu Avrupa'da Rus prenslikleriyle şiddetli mücadeleler yapmışlardır.
- C) Eyyubi ve Memlük ordusunun temelini oluşturmuşlardır.
- D) Dilleri ve dinî törenleri ile Romenleri etkilemişlerdir.
- E) Karahanlıların kuruluşunda etkili olmuşlardır.

2. İslamiyet öncesi Türkler, tabiatla bulunan birtakım varlıkların ruhu olduğuna ve ölümden sonraki yaşama inanmışlardır. Bu yüzden ölen kişinin eşyalarıI..... denilen mezarlara konulmuştur. Mezarlarının başına da kişinin hayat-tayken öldürdüğü düşman sayısı kadarII denilen taşlar dikilmiştir. Ölen kişinin ardından daIII..... denilen tören düzenlemişlerdir.

Yukarıdaki numaralandırılmış boşluklara sırasıyla aşağıdaki kavramlardan hangileri getirilmelidir?

I	II	III
A) Kümbet	Fresk	Toy
B) Tümülüs	Sagu	Sav
C) Kurgan	Balbal	Yuğ
D) Koşuk	Toy	Kurgan
E) Kurgan	Balbal	Sagu

3. – Türklerin İslami dönemdeki ilk edebî ürünüdür.
- Karahanlı hükümdarı Uluğ Kara Buğra Han'a takdim edilmiştir.
- Eserde Küntogdı, Ögdülmiş ve Odgurmuş'un bir araya gelerek hükümdar ile devlet meseleleri üzerine sohbetleri yer almıştır.

Yukarıda özellikleri verilen Türk - İslam eseri aşağıdakilerden hangisidir?

- A) Divan-ı Lügat-it Türk
- B) Kutadgu Bilig
- C) Siyasetname
- D) Divan-ı Hikmet
- E) Atabet'ül Hakayık

4. Aşağıdaki Türk - İslam devletlerinden hangilerinin birbirleri ile savaştığı söylenebilir?

- A) Karakoyunlular - Akkoyunlular
- B) Tolunoğulları - Gazneliler
- C) Harzemşahlar - İhşidler
- D) Karahanlılar - Osmanlılar
- E) Eyyubiler - Karahanlılar

5. Osmanlı Devleti'nde savaş sırasında saltanat sancaklarını, padişahın çadırını ve hazineyi koruyan askerî birimler arasında aşağıdakilerden hangisi gösterilemez?

- A) Sipahiler
- B) Ulufeciler
- C) Garipler
- D) Silahtarlar
- E) Azaplar

6. I. Ocaklık Arazi: Gelirleri kale muhafızlarına ve tersane giderlerine ayrılan toprak
- II. Kılıç Tımarı: Tımar alan devlet görevlilerinin gelirlerinin üç bin akçesini kendi geçimlerine ayırması
- III. Harac-ı Muvazzaf: Gayrimüslimlerden alınan arazi vergisi
- IV. Dar'ülhendese: Matematik ağırlıklı eğitimin verildiği medreseler
- V. Muhtesib: Merkeze bağlı eyaletlerin en üst kademesinde yer alan görevli

Yukarıdakilerden hangisinin açıklaması yanlış olarak verilmiştir?

- A) I B) II C) III D) IV E) V

7. Aşağıdakilerden hangisi 1878 Berlin Antlaşması'ndan sonra yaşanan gelişmeler arasında gösterilemez?

- A) Mebusan Meclisinin kapatılması
B) Sultan Abdülaziz'in tahttan indirilmesi
C) Düyun-u Umumiye İdaresinin kurulması
D) Avusturya'nın Bosna - Hersek'i topraklarına katması
E) Bulgaristan'ın bağımsızlığını ilan etmesi

8. Osmanlı Devleti 1821'de Mora Yarımadası'nda başlayan Yunan İsyanı'nı bastırabilmek için,

- I. Hicaz Emiri,
II. Kırım Hanı,
III. Mısır Valisi

güçlerinin hangilerinden yardım aldığı söylenebilir?

- A) Yalnız I B) Yalnız II C) Yalnız III
D) I ve III E) II ve III

9. 1853 - 1856 yılları arasında yaşanan Kırım Savaşı'nda aşağıdaki İtalyan şehir devletlerinden hangisinin Rusya'ya karşı Osmanlı Devleti'nin yanında savaşa girdiği söylenebilir?

- A) Floransa B) Napoli
C) Piyemonte D) Venedik
E) Ceneviz

10. Osmanlı Devleti çok zor durumda kaldığı dönemlerde topraklarının tamamını işgalden korumak amacıyla bazı devletlere savaş dönemi veya karışıklıklar sona erinceye kadar geçici olarak bir kısım topraklar vermiştir.

Buna göre,

- I. Kıbrıs,
II. Oniki Ada,
III. Musul,
IV. Boğazlar

bölgelerinden hangileri yukarıdaki açıklamanın kapsamı içerisinde değerlendirilebilir?

- A) I ve II B) I ve III C) II ve IV
D) I, II ve III E) II, III ve IV

11. I. Balkan Savaşı sonucunda imzalanan 1913 Londra Antlaşması'yla "Midye - Enez hattı"nın Balkan devletleri ile Osmanlı Devleti arasında sınır olması kararlaştırılmıştır.

Buna göre I. Balkan Savaşı sonucunda Osmanlı Devleti'nin aşağıdaki yerlerden hangisini kaybettiği söylenemez?

- A) Edirne B) Kırklareli
C) Dedeağaç D) Gelibolu
E) Selanik

12. Mustafa Kemal ile ilgili olarak aşağıdakilerden hangisi söylenemez?

- A) Manastır Askerî İdadisinde Ömer Naci ile tanışarak edebiyata ilgi duymaya başlamıştır.
- B) Voltaire ve Jean Jacques Rousseau gibi yazarların eserlerinden etkilenmiştir.
- C) 1910'da Fransa'da düzenlenen Picardie Manevralarına katılacak heyete seçilmiştir.
- D) Şam'da Hürriyet ve İtilaf Cemiyetini kurmuştur.
- E) Sofya'da ateşemiliterliği görevinde bulunmuştur.

13. Aşağıdakilerden hangisi I. Dünya Savaşı başladıktan sonra İtilaf Devletleri bloğuna katılan devletler arasında gösterilemez?

- A) Yunanistan
- B) İtalya
- C) Japonya
- D) Brezilya
- E) Polonya

14. Osmanlı Devleti'nin I. Dünya Savaşı'nı kaybetmesinde aşağıdakilerden hangisinin etkisi olduğu söylenemez?

- A) Müslüman Arapların İngilizlerle iş birliği yapması
- B) Bulgaristan'ın savaştan çekilmesi
- C) Manda ve himaye düşüncesinin ortaya çıkması
- D) ABD'nin savaşa katılması
- E) Sarıkamış Harekatı'nda başarı sağlanamaması

15. Mondros Ateşkes Antlaşması ile ilgili aşağıdakilerden hangisinde yanlış bir bilgi verildiği söylenebilir?

- A) İngilizlerin Suriye ve Filistin üzerinden Anadolu'ya doğru ilerlemesi üzerine imzalanmıştır.
- B) Boğazlardaki istihkamların İtilaf Devletleri tarafından işgal edilmesi kararlaştırılmıştır.
- C) Sadrazam Ali Rıza Paşa'nın mevcut şartları değerlendirerek ateşkes istemesi sonucunda imzalanmıştır.
- D) İtilaf Devletlerini bu ateşkeste İngiliz Amiral Calthorpe, Osmanlı Devleti'ni ise Bahriye Nazırı Rauf Bey temsil etmiştir.
- E) Limni Adası açıklarındaki Agememnon zırhlısında imzalanmıştır.

YEDİKLİM

16.	Cemiyet	Amaç
I.	Mavri Mira	Megalo İdea'yı gerçekleştirmek
II.	Hınçak	Çukurova ve Doğu Anadolu'da bir Ermeni devleti kurmak
III.	Redd-i İlhak	İzmir'in Yunanlılara verilmesini önlemek
IV.	Makabi	Çoğunlukta olunan yerde bir Rum devleti kurmak
V.	Millî Kongre	Basın ve yayın yoluyla Türk milletinin haklılığını dünya kamuoyuna duyurmak
Yukarıdaki eşleştirmelerden hangisi <u>yanlıştır</u> ?		
A) I	B) II	C) III
D) IV	E) V	

17. Aşağıdakilerden hangisinin kendisine bağlı kuvvetlerle Kuvayımilliye birlikleri içerisinde yer aldığı söylenemez?

- A) İpsiz Recep
- B) Delibaş Mehmet
- C) Gaddar Pehlivan
- D) Kara Fatma
- E) Şahin Bey

18. Amasya Genelgesi'nde; "Ulusun bağımsızlığını yine ulusun azim ve kararı kurtaracaktır." kararı yer almıştır.

Alınan bu karar ile aşağıdakilerden hangisinin amaçlandığı söylenemez?

- A) Monarşik yapıya son verme
- B) Yönetim şeklini değiştirme
- C) Millet egemenliğini hâkim kılma
- D) Vatani emperyalist güçlere bırakmama
- E) Millî Mücadele'nin gerekçesini açıklama

19. Amasya Genelgesi'nde,

- I. Balıkesir,
- II. Erzurum,
- III. Sivas

kongrelerinden hangilerinin toplanması yönünde kararların yer aldığı söylenebilir?

- A) Yalnız I
- B) Yalnız III
- C) I ve II
- D) II ve III
- E) I, II ve III

20. Erzurum Belediye Başkanı Zakir Bey Amerikalı General Harboud'a Gez Mahallesi'ni ve Kavak mezarlıklarını göstererek; "Şu geniş taşlıkları görüyor musunuz? İşte bunlar Türk mezarlıklarıdır. Şehrin birçok yerinde daha bunun on misli mezarlıklarımız vardır. Şimdi iyice bakın, şurada da etrafı çevrili küçük bir mezarlık var. O da bir Ermeni mezarlığıdır." demiştir.

Erzurum Belediye Başkanı'nın bu söylemlerinin Wilson İlkelerinde yer alan aşağıdaki kararlardan hangisi ile doğrudan ilişkili olduğu söylenebilir?

- A) Devletler arasında gizli antlaşmalar yapılmayacak.
- B) Türklerin yoğun olduğu bölgelerin bağımsızlığı sağlanacak.
- C) Galip devletler mağlup devletlerden toprak almayacak.
- D) Dünya barışını korumak için uluslararası bir teşkilat kurulacak.
- E) Her ulusa kendi kaderini kendisinin belirlemesi hakkı tanınacak.

21. Sevr Antlaşması'nda Osmanlı Devleti'ne bırakılan yerler arasında aşağıdakilerden hangisi gösterilemez?

- A) Aydın
- B) Ankara
- C) Tokat
- D) Çorum
- E) Giresun

22. Büyük Millet Meclisine karşı çıkan,

- I. Düzcce,
- II. Yozgat,
- III. Milli Aşireti

isyanlarından hangilerine İtilaf Devletlerinin destek verdiği söylenebilir?

- A) Yalnız I
- B) Yalnız II
- C) I ve II
- D) I ve III
- E) I, II ve III

23. İstiklal Harbimizin kazanılmasında yoğun çabaları olan Kazım Karabekir'in yaşamı boyunca üstlendiği görevler arasında aşağıdakilerden hangisi gösterilemez?

- A) XV. Kolordu Komutanlığı
- B) Yıldırım Orduları Grup Komutanlığı
- C) I. Ordu Müfettişliği
- D) TBMM vekilliği
- E) TBMM Başkanlığı

24. Aşağıdakilerden hangisi I. İnönü Savaşı ile ilişkilendirilemez?

- A) Çerkez Ethem İsyanı'nın bastırılması
- B) İstiklal Marşı'nın kabul edilmesi
- C) Moskova Antlaşması'nın imzalanması
- D) Londra Konferansı'nın düzenlenmesi
- E) Tekalifimillîye Emirlerinin yayımlanması

25. Aşağıdaki tarihlerden hangisinde 1924 Anayasası, içeriği değiştirilmeden dili Türkçeleştirilerek yeniden kabul edilmiştir?

- A) 1930 B) 1935 C) 1940
- D) 1945 E) 1950

26. Mudanya Ateşkes Antlaşması'nın imzalanmasından sonra Doğu Trakya'yı teslim almakla görevlendirilen komutan aşağıdakilerden hangisidir?

- A) Kazım Karabekir
- B) Ali Fuat Cebesoy
- C) İsmet İnönü
- D) Refet Bele
- E) Rauf Orbay

27. Millî Mücadele'nin lider kadrosu arasında yaşanan görüş ayrılıkları,

- I. Cumhuriyet Halk Fırkası,
- II. Terakkiperver Cumhuriyet Fırkası,
- III. Serbest Cumhuriyet Fırkası

partilerinden hangilerinin kurulmasına ortam hazırlamıştır?

- A) Yalnız I B) Yalnız II C) I ve II
- D) I ve III E) II ve III

28. Aşağıdakilerden hangisinin 1924 - 1927 yılları arasındaki dönemde gerçekleştiği söylenemez?

- A) Sanayi ve Maadin Bankasının kurulması
- B) Kabotaj Kanunu'nun kabul edilmesi
- C) Türk Tayyare Cemiyetinin kurulması
- D) Reji İdaresinin yabancılardan satın alınması
- E) Maden Tetkik Arama Enstitüsünün açılması

29. Cumhuriyet Dönemi'nde eğitim alanında görülen bazı uygulamalar şunlardır:

- I. Azınlık okulları ve yabancı okullar Millî Eğitim Bakanlığına bağlandı.
- II. Uluslararası rakamlar kabul edildi.
- III. Medreseler kapatıldı.

Bu uygulamaların aşağıdaki Atatürk ilkeleriyle ilişkisi hangisinde doğru olarak gruplandırılmıştır?

I	II	III
A) Milliyetçilik	İnkılapçılık	Laiklik
B) İnkılapçılık	Milliyetçilik	Halkçılık
C) Milliyetçilik	Laiklik	Cumhuriyetçilik
D) Devletçilik	İnkılapçılık	Halkçılık
E) Devletçilik	Cumhuriyetçilik	Laiklik

30. Avrupa Birliği'nin oluşum süreci ile aşağıdakilerden hangisinin ilişkili olduğu söylenemez?

- A) Schuman Bildirgesi
- B) Avrupa Kömür ve Çelik Topluluğu
- C) Roma Antlaşması
- D) SALT - I Görüşmeleri
- E) Maastricht Antlaşması

31. Türkiye'de bir yaz günü üç farklı gözlemcinin bulunduğu yerlere ait bilgiler aşağıdaki gibidir.

1. Gözlemci: Bugün bulunduğum yerde gündüz süresi 15 saat, deniz seviyesinden 1000 metre yükseltideyim.

2. Gözlemci: Bugün bulunduğum yerde gündüz süresi 15 saat 5 dakika, deniz seviyesinden 1500 metre yükseltideyim.

3. Gözlemci: Bulunduğum yerde gündüz süresi 14 saat 50 dakika, deniz seviyesinden 1500 metre yükseltideyim.

Gözlemcilerin verdiği bilgilere dayanarak aşağıdakilerden hangisine ulaşamaz?

- A) 1. gözlemcinin bulunduğu yerde güneş yerel saatle 06.00'dan önce doğar.
- B) 2. ve 3. gözlemcilerin bulunduğu yerlerin gerçek ve indirgenmiş sıcaklıkları arasındaki fark eşittir.
- C) 1. gözlemci 2. gözlemciye göre daha güneyde bulunur.
- D) 1. gözlemcinin bulunduğu yerde ortalama sıcaklık diğer gözlemcilerin bulunduğu yerden daha azdır.
- E) Üç gözlemci de farklı enlemlerde yer alır.

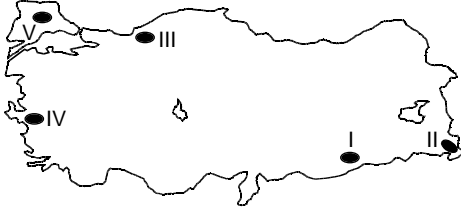
32. Türkiye'de traverten, lapa, obruk, polye ve dolin gibi yer şekillerinin yaygın olduğu bir bölge ile ilgili olarak,

- I. Sıcak su kaynaklarının yaygın olduğu bölgedir.
- II. Çözünabilen kayaların yaygın olduğu bir bölgedir.
- III. Sadece aşındırma şekillerinin yaygın olduğu bir bölgedir.
- IV. Fiziksel (mekanik) ufalanmanın fazla olduğu bir bölgedir.

yargılarından hangilerinin kesin doğru olduğu söylenebilir?

- A) Yalnız I
- B) Yalnız II
- C) I ve III
- D) II ve III
- E) III ve IV

33.



Türkiye Kuzey Yarım Küre'de orta kuşağın güneyinde bir ülke olduğu için buzul aşınım ve birikim şekillerine 3500 - 4000 m'nin üzerindeki yüksek dağlarda rastlanmaktadır.

Buna göre, haritada numaralı sahaların hangisinde buzul aşınım ve birikim şekillerine rastlandığı söylenebilir?

- A) I B) II C) III D) IV E) V

35.- Güney Marmara Bölümü'nde bulunan Kapıdağ Yarımadası kara ile adanın birleşmesiyle oluşmuş bir tombolodur.

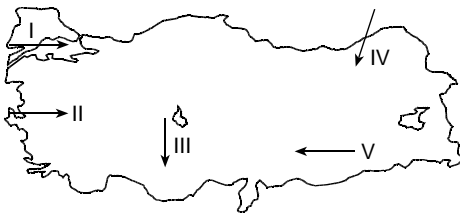
- Karstik göllerin en fazla olduğu bölüm Antalya Bölümü'dür.
- Gerçek kıyı uzunluğu en fazla olan bölge Ege'dir.
- Kapadokya yöresindeki peribacalarını ortaya çıkaran temel etken rüzgâr aşındırmasıdır.
- Karadeniz ve Akdeniz bölgelerinde enine kıyı tipleri yaygın olarak görülür.

Türkiye'nin yer şekilleri ile ilgili olarak yukarıda verilen bilgilerden kaç tanesi doğrudur?

- A) 1 B) 2 C) 3 D) 4 E) 5

YEDİKLİM

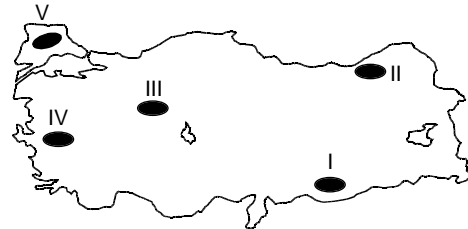
34. Birbirinden farklı beş ayrı araştırma grubu aşağıdaki haritada gösterilen oklar yönündeki yolları takip ederek sıcaklık, yağış ve bitki örtüsünde meydana gelen değişimleri gözlemlemiştir.



Buna göre, hangi araştırma grubunun ilerlediği yönde sıcaklık, yağış ve bitki örtüsündeki değişimlerin daha fazla olduğu gözlenebilir?

- A) I B) II C) III D) IV E) V

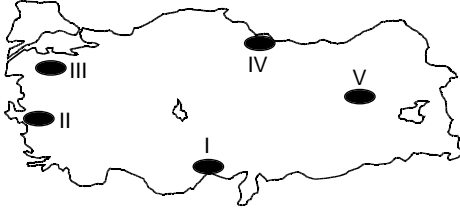
36. Tarımsal nüfus yoğunluğu bir ilde veya bir bölgede tarım ve hayvancılıkla uğraşan nüfusun o ülke veya bölgedeki tarım için kullanılan alana bölünmesiyle elde edilir.



Buna göre, yukarıdaki Türkiye haritasında taralı olan yörelerden hangisinde tarımsal nüfus yoğunluğu daha fazladır?

- A) I B) II C) III D) IV E) V

37. Yıllık sıcaklık ortalamasının yüksek olduğu yerlerde yıl içinde birden çok ürün elde edilebilir.



Yukarıdaki Türkiye haritasında numaralandırılmış yörelerden hangisinde yıl içinde birden çok ürün alınabilmesi daha zordur?

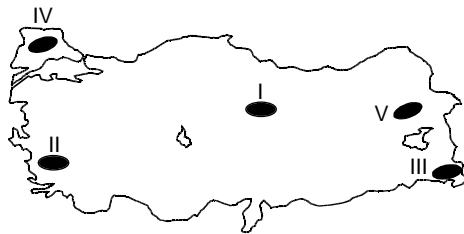
- A) I B) II C) III D) IV E) V

38. Son yıllarda tüm dünyada olduğu gibi Türkiye'de de küresel ısınmanın olumsuz etkileri görülmektedir.

Aşağıdaki enerji kaynaklarından hangisinin üretimi küresel ısınmaya bağlı iklim değişikliğinden en fazla etkilenecektir?

- A) Linyit B) Jeotermal
C) Hidroelektrik D) Nükleer
E) Doğal gaz

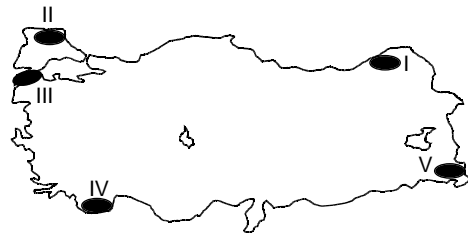
39. İncir kış ılıklığı isteyen bir tarım ürünüdür. Kış mevsiminin soğuk geçtiği yerlerde incir üretimine rastlanmaz.



Buna göre sıcaklık koşulları düşünüldüğünde yukarıdaki Türkiye haritasında taralı yerlerden hangisinde incir tarımına daha fazla rastlanır?

- A) I B) II C) III D) IV E) V

40. Rüzgâr enerjisi, Türkiye'de her geçen gün yaygınlaşan bir enerji kaynağıdır.



Yeryüzü şekillerinin uzanışı da dikkate alındığında yukarıdaki Türkiye haritasında taralı yerlerden hangisinde rüzgâr enerjisinden daha fazla faydalanılabilir?

- A) I B) II C) III D) IV E) V

41. Aşağıda verilen bölümlerden hangisinin ekonomik gelirlerinde turizmin payı en fazladır?

- A) Ergene B) Orta Fırat
C) Doğu Karadeniz D) Antalya
E) Güney Marmara

42. Aşağıdaki tabloda Türkiye'de 1985 - 2005 yılları arasında ekonomik sektörlerin millî gelire katkısı oransal olarak verilmiştir.

Sektörler	1985	2000	2005
Sanayi	27,5	34,5	35,0
Tarım	20,5	16	15,5
Hizmetler	52,0	51	49,8

Buna göre aşağıdakilerden hangisi söylenemez?

- A) Sanayi sektörünün payı sürekli yükselmiştir.
B) Tarımın millî gelir payı sürekli azalmıştır.
C) Hizmet sektörünün millî gelir içindeki payı yaklaşık olarak % 50 civarındadır.
D) Sektörlerin gelir sıralaması yıllara göre değişmemiştir.
E) Sanayide çalışan nüfus miktarı tarım sektöründen daha fazladır.

43. Toplam nüfusun toplam alana bölünmesiyle aritmetik nüfus yoğunluğu elde edilir.

Güneydoğu Anadolu Bölgesi'nin aritmetik nüfus yoğunluğunun İç Anadolu Bölgesi'nden çok olmasının temel nedeni aşağıdakilerden hangisidir?

- A) Güneydoğu Anadolu Bölgesi'nde yer şekillerinin daha sade olması
- B) Güneydoğu Anadolu Bölgesi'nde kentleşmenin fazla olması
- C) İç Anadolu Bölgesi'nin göç veren bölge olması
- D) Güneydoğu Anadolu Bölgesi'nin gelişmiş olması
- E) Güneydoğu Anadolu Bölgesi'nin yüz ölçümünün küçük olması

44. Güneydoğu Anadolu Bölgesi'nde toplu yerleşme dokusunun gelişmesinde,

- I. su kaynaklarının az olması,
- II. yer şekillerinin sade olması,
- III. bitki örtüsünün cılız olması,
- IV. ulaşım imkanlarının az olması,
- V. maden yataklarının fazla olması

gibi faktörlerden hangileri etkili olmuştur?

- A) Yalnız I B) I ve II C) II ve III
- D) III ve IV E) IV ve V

45. I. Şelf alanlarının geniş olması

- II. Kırıklı yapının yaygın olması
- III. Kıyı akıntılarının etkisinin az olması
- IV. Akarsuların menderesler çizerek akması
- V. Akarsuların akış hızının az olması

Yukarıdakilerden hangileri Ege Bölgesi'nde delta ovalarının yaygın olmasının sebebidir?

- A) Yalnız I B) Yalnız III C) I ve III
- D) II ve IV E) III ve V

46. Türkiye'de endüstrinin coğrafi dağılışı bölgelere göre farklılık gösterir. Bu farklılığın nedenlerinden biri de fabrikaların ham maddeye yakın kurulmasıdır.

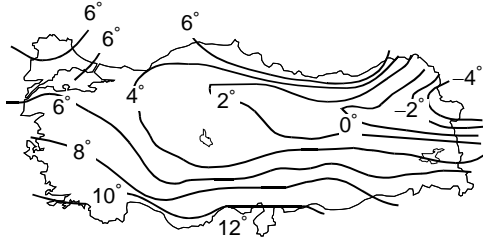
Aşağıdaki endüstri kuruluşlarından hangisinin yukarıda açıklanan nedene bağlı olarak yer seçimi yapılmamıştır?

- A) Petrol rafinerisi → Batman
- B) Sigara → Samsun
- C) Alüminyum Fabrikası → Seydişehir
- D) Bakır İşletmeciliği → Samsun
- E) Pamuklu Dokuma → Kahramanmaraş

47. Türkiye'de son yıllarda turizm etkinlikleri arasında rafting, mağaracılık ve dağcılık gibi alternatif sporların önemli yer tutmasında aşağıdakilerden hangisinin rolünün **daha fazla** olduğu söylenebilir?

- A) Yer şekillerinin çok çeşitlilik göstermesi
- B) Karstik arazilerin ülke genelinde yaygınlık göstermesi
- C) Kıyı uzunluğunun fazla olması
- D) Ortalama yükseltinin fazla olması
- E) Turistik tesis sayısının artması

48. Aşağıda, Türkiye'nin ocak ayı indirgenmiş sıcaklık haritası verilmiştir.



Buna göre, en düşük sıcaklıkların Erzurum-Kars Bölümü'nde görülmesinde,

- I. asor yüksek basıncı,
- II. karasallık,
- III. yükselti

faktörlerinden hangisi etkili olmuştur?

- A) Yalnız I B) Yalnız II C) Yalnız III
- D) I ve II E) II ve III

49. Aşağıdakilerden hangisi sınırlı ehliyetsizlerle ilgili doğrudur?

- A) Kendilerini borç altına sokan işlemleri tek taraflı bağlamazlık yaptırımına tabidir. Haksız eylemlerinden dolayı ise ceza sorumlulukları vardır.
- B) Sadece kendilerini borç altına sokmayan işlemleri tek taraflı bağlamazlık yaptırımına tabi olup diğer işlemleri geçersizdir. Haksız eylemlerinden dolayı ise ceza sorumlulukları vardır.
- C) Kendilerini borç altına sokan işlemleri tek taraflı bağlamazlık yaptırımına tabidir. Haksız eylemlerinden dolayı ise ceza sorumlulukları yoktur.
- D) Bütün işlemleri tek taraflı bağlamazlık yaptırımına tabidir. Haksız eylemlerinden dolayı ise ceza sorumlulukları yoktur.
- E) Ehliyetsiz oldukları için hiçbir işlemleri geçerli değildir. Ancak haksız eylemlerinden dolayı ise ceza sorumlulukları vardır.

50. Borçlunun borcunu ödememekte, alacaklının da alacağını almaktan kaçınmada ısrar etmesine ne ad verilir?

- A) Defi
- B) Temerrüt
- C) Zaman aşımı
- D) Hak düşürücü süre
- E) Takas

51. I. Sulh hukuk mahkemesi
II. Vergi mahkemesi
III. Disiplin mahkemesi

Yukarıdakilerden hangisi genel yargı kolunda yer alan mahkemelerdendir?

- A) Yalnız I B) Yalnız III C) I ve II
- D) I ve III E) II ve III

52. I. Din ve ahlak eğitim ve öğretimi Devletin gözetim ve denetimi altında yapılır.
II. Din kültürü ve ahlak öğretimi ilk ve ortaöğretim kurumlarında okutulan seçimlik dersler arasında yer alır.
III. Bunun dışındaki din eğitim ve öğretimi ancak, kişilerin kendi isteğine, küçüklerin de kanuni temsilcisinin talebine bağlıdır.

1982 Anayasası'na göre, yukarıdaki ifadelerden hangisi yanlıştır?

- A) Yalnız I B) Yalnız II C) I ve II
- D) I ve III E) II ve III

53. 1982 Anayasası'na göre, Cumhurbaşkanlığı seçim usul ve esaslarıyla ilgili aşağıdakilerden hangisi yanlıştır?

- A) Cumhurbaşkanı seçimi, Cumhurbaşkanı'nın görev süresinin dolmasından önceki altmış gün içinde; makamın herhangi bir sebeple boşalması halinde ise boşalmayı takip eden altmış gün içinde tamamlanır.
- B) Genel oyla yapılacak seçimde, geçerli oyların salt çoğunluğunu alan aday Cumhurbaşkanı seçilmiş olur.
- C) İlk oylamada bu çoğunluk sağlanamazsa, ikinci oylamaya ilk oylamada en çok oy almış bulunan iki aday katılır ve geçerli oyların çoğunluğunu alan aday Cumhurbaşkanı seçilmiş olur.
- D) İkinci oylamaya tek adayın kalması halinde, bu oylama referandum şeklinde yapılır.
- E) Cumhurbaşkanı göreve başlayıncaya kadar Meclis Başkanı Cumhurbaşkanlığına vekalet eder.

55. I. Bakanlar Kurulu tasarıları

- II. Tüzük
- III. Yönetmelik

1982 Anayasası'na göre, yukarıdaki işlemlerden hangileri Danıştay tarafından incelenerek çıkarılır?

- A) Yalnız I
- B) Yalnız II
- C) I ve II
- D) I ve III
- E) II ve III

YEDİKLİM

54. I. Hâkimler ve savcılar görevlerinden alınmaz.

- II. Hâkimler kendileri istemedikçe Anayasa'da gösterilen yaştan önce emekliye ayrılamaz.
- III. Hâkimler, bir kadronun kaldırılması sebebiyle aylık, ödenek ve diğer özlük haklarından yoksun kılınabilir.
- IV. Hâkimler, bir mahkemenin kaldırılması sebebiyle de olsa aylık, ödenek ve diğer özlük haklarından yoksun kılınamaz.

1982 Anayasası'na göre, yukarıdakilerden hangisi ya da hangileri hâkimlik ve savcılık teminatıyla ilgili doğrudur?

- A) Yalnız II
- B) I ve II
- C) II ve IV
- D) I, II ve III
- E) II, III ve IV

56. I. Cumhurbaşkanı tarafından doğrudan atanır.

- II. Başbakan'a karşı sorumludur.
- III. Başkomutanlık görevini yürütür.

1982 Anayasası'na göre, Genelkurmay Başkanı'yla ilgili yukarıdaki ifadelerden hangisi doğrudur?

- A) Yalnız I
- B) Yalnız II
- C) I ve II
- D) I ve III
- E) II ve III

57. Aşağıdakilerden hangisi merkezden yönetim sisteminin sakıncalarından biri değildir?

- A) Bürokrasiye yol açması
- B) Kırtasiyeciliği artırması
- C) Mali denetiminin zor olması
- D) Hizmetlerin yöresel gereksinimlere göre yürütülememesi
- E) Demokratik ilkelere pek uygun olmaması

59. Türkiye aşağıdaki uluslararası spor organizasyonlarından hangisine 2020 yılında ev sahipliği yapmak üzere aday olmuştur?

- A) Avrupa Futbol Şampiyonası
- B) Kış Olimpiyatları
- C) Dünya Kupası
- D) Dünya Basketbol Şampiyonası
- E) Dünya Atletizm Şampiyonası

YEDİKLİM

58. Aşağıdaki ülkelerden hangisinde 2012 Mayıs ayı içinde seçim yapılmamıştır?

- A) Ermenistan
- B) Yunanistan
- C) Sırbistan
- D) Fransa
- E) İspanya

60. 9-10 Mayıs 2012 tarihlerinde 54 Afrika ülkesinin katılımıyla düzenlenen Türkiye-Afrika medya forumu hangi ilimizde yapılmıştır?

- A) İstanbul
- B) Ankara
- C) Antalya
- D) Malatya
- E) İzmir

TEST BİTTİ.
CEVAPLARINIZI KONTROL EDİNİZ.